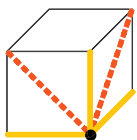


Klimmen



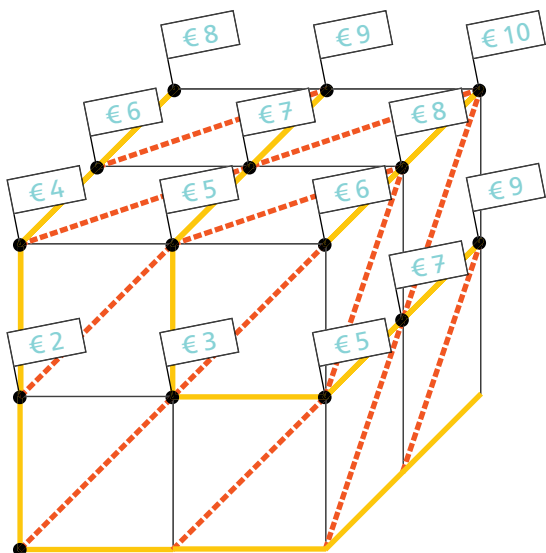
voorbeeld



start

— : € 2,-

- - - : € 3,-

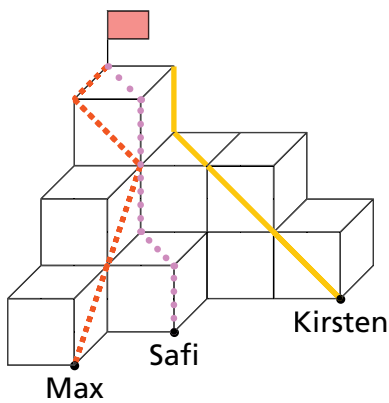


start



Wat kost elke klim?

Teken vanuit start de kortste weg naar elke vlag.
Schrijf in elke vlag hoeveel euro de route kost.



Teken de kortste routes naar de vlag.
Hoeveel euro kosten de routes?

Max: € 11,- , Safi: € 12,-

Kirsten heeft € 12,-. Haalt zij de vlag?

Nee, zij heeft € 1,- te weinig.

Wie klimt voor het minste geld naar de vlag?

Naomi en Misja. Ieder voor € 21,-.

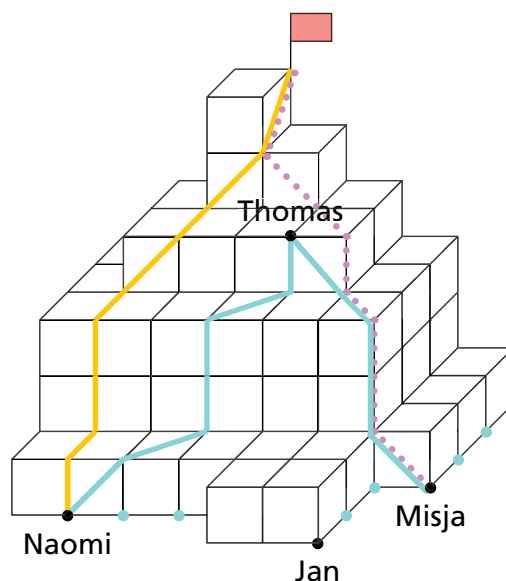
Thomas heeft € 15,-.

Naar wie kan hij toe klimmen?


Naar Naomi (€ 15,-) en Misja (€ 13,-).

Vanaf welke punten kun je met € 20,- de top bereiken?


Geef deze punten aan met een blauwe stip.



Speelgoedwinkel




Samen € 16,-.



Samen € 25,-.


De  kost € 7,- .



Samen € 8,-.





Samen € 11,-.




Samen € 13,-.

De  kost € 8,- .

Het  kost € 5,- .




Samen € 11,-.




Samen € 10,-.

De  kost € 4,- .


Het  kost € 3,- .



Samen € 18,-.



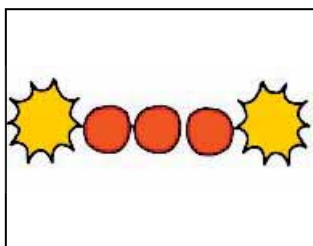
Samen € 13,-.




Samen € 15,-.

De  kost € 8,- .

De  kost € 5,- .



Samen € 8,-.



Samen € 3,-.

De  kost € 2,- .

De  kost € 1,- .

