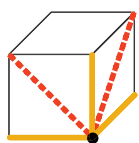


Klimmen



voorbeeld



start

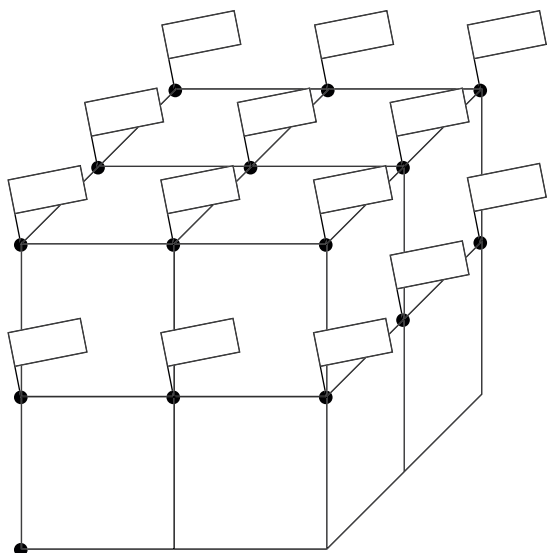
— : € 2,-

- - - : € 3,-

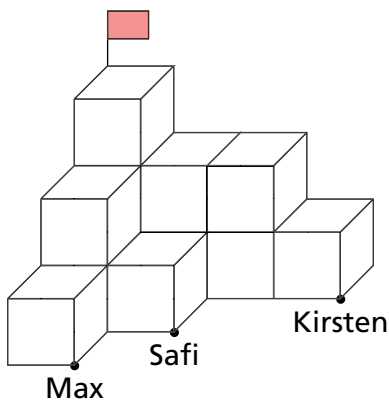


Wat kost elke klim?

Teken vanuit start de kortste weg naar elke vlag. Schrijf in elke vlag hoeveel euro de route kost.



start



Teken de kortste routes naar de vlag. Hoeveel euro kosten de routes?

Max: _____, Safi: _____

Kirsten heeft € 12,-. Haalt zij de vlag?

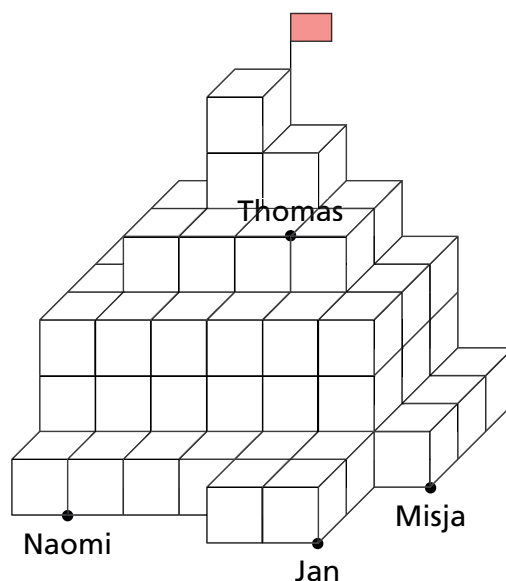
Wie klimt voor het minste geld naar de vlag?

Thomas heeft € 15,-.


Naar wie kan hij toe klimmen?

Vanaf welke punten kun je met € 20,- de top bereiken?


Geef deze punten aan met een blauwe stip.



Speelgoedwinkel



Samen € 16,-.



Samen € 25,-.


De  kost € _____.



Samen € 8,-.




Samen € 11,-.




Samen € 13,-.

De  kost € _____.

Het  kost € _____.




Samen € 11,-.




Samen € 10,-.

De  kost € _____.


Het  kost € _____.



Samen € 18,-.



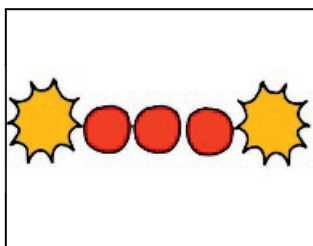
Samen € 13,-.




Samen € 15,-.

De  kost € _____.

De  kost € _____.



Samen € 8,-.



Samen € 3,-.

De  kost € _____.

De  kost € _____.

