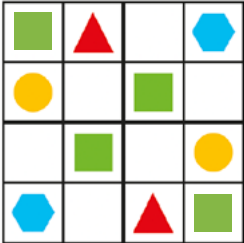


# Tips bij Rekentijger 3A



## 1 sudoku



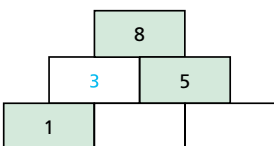
vul de tekening alleen in als je het zeker weet.

## 2 pijlen gooien

pijl 1	pijl 2	pijl 3	samen
5	5	0	10
			10
			10
			10
			10

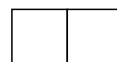
bedenk in welke schijven Milan zijn pijltjes kan gooien.

## 3 muurtjes bouwen



reken van boven naar beneden.

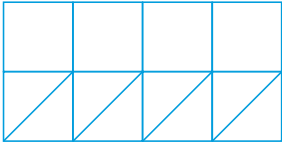
## 4 domino



bedenk goed welke mogelijkheden er allemaal zijn.







## 8 tangrammen met tegels



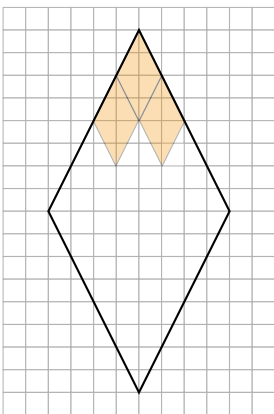
dit is het antwoord van het eerste figuur.

## 9 hoeveel kosten ze?

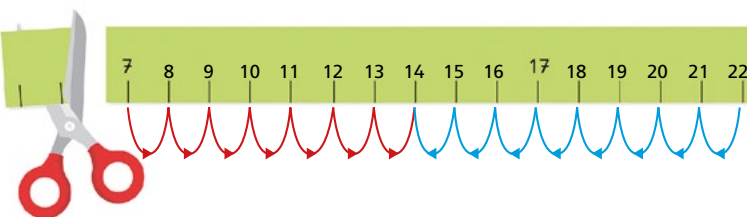
		6
		5
7	4	11

reken eerst uit hoeveel 1 eendje kost.  
daarna kun je ook uitrekenen hoeveel de bal en de auto kosten.

## 11 mozaïeken • 1

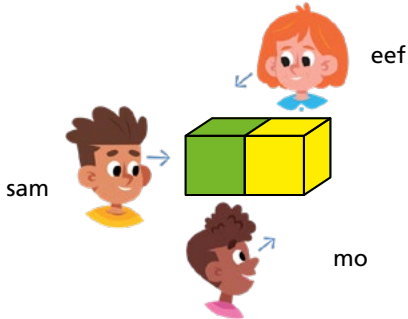


## 13 wat is het midden?





## 15 wat zien ze?



leg blokjes neer en ga op de plek van eef, sam en mo staan.

je kunt ook bij de andere opdrachten materialen gebruiken om je te helpen.

## 16 smileys

bouw de bouwwerken na.  
zo kan je makkelijk tellen.

## 19 dubbelen



dartbord van bob



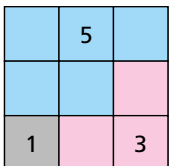
wit 1 = 1 punt

rood 2 = 2 punten

blauw 4 = 8 punten

$$1 + 6 + 8 = 15$$

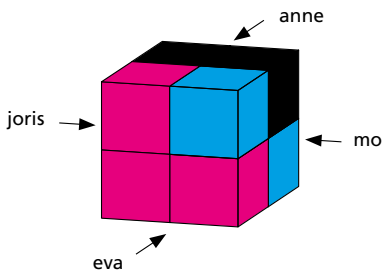
## 22 vierkanten • 2



draai de vloertjes zodat ze passen.

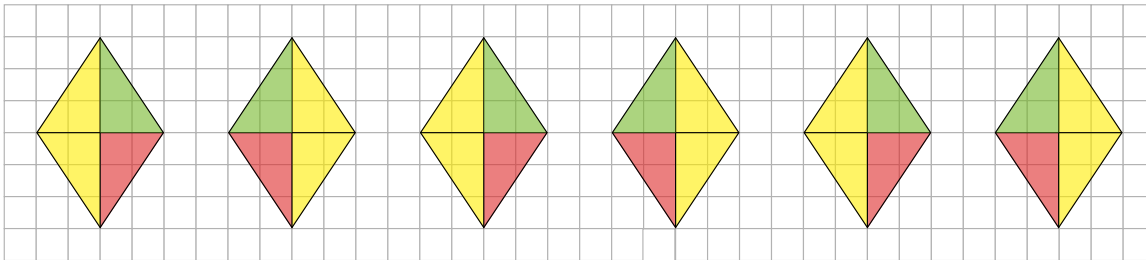


## 24 kijkdoos • 2



bouw deze blokkentoren na.

## 25 tekenen op het schoolplein • 1



kijk goed!  
kun je dit ook bij de andere figuren?

## 27 patronen

€4	€4	€4
€4	€4	€4

$$4 + 4 + 4 + 4 + 4 + 4 = 24$$

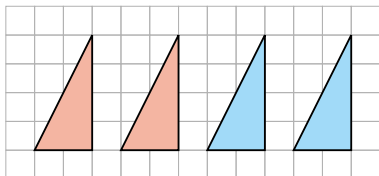
## 28 getalspel

6	+	4	-	2	-	5	=	3
↓		↓		↓		↓		

$$6 + 4 = 10 - 2 = 8 - 5 = 3$$



## 29 vierhoeken van driehoeken • 1



trek de figuren over en knip ze uit.  
dan kun je hiermee puzzelen tot je het juiste figuur krijgt.