

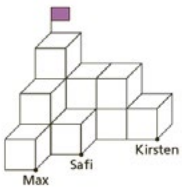


2 Wie is het?



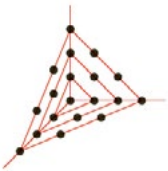
Kijk goed of er 'niet' of 'geen' in de tekst staat.

3 Klimmen



Gebruik voor alle kinderen een andere kleur.
Je kunt het bouwwerk nabouwen met blokjes.

4 Stippenweb



Kijk heel goed.
Werk netjes met een liniaal en potlood.

8 Routes



Werk met potlood.
Lukt het niet?
Begin dan eens onderaan.



Tips bij Rekentijger 4B

11 Schildpad en haas



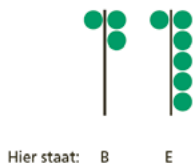
Gebruik minuten om mee te rekenen.

13 Geheimschrift

| | | | | |
|---|---|---|---|---|
| A | B | C | D | E |
| F | G | H | I | J |
| K | L | M | N | O |
| P | Q | R | S | T |
| U | V | W | X | Y |
| Z | | | | |

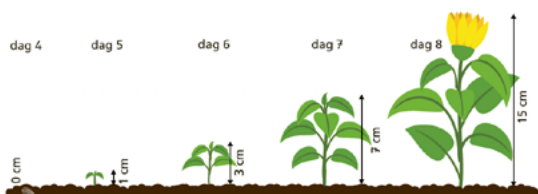
rij

kolom



In rij 1, kolom 2 staat de B.
In rij 1, kolom 5 staat de E.

14 Snelle groeiers



Maak een tabel met de goede informatie.

| dag | lengte in cm | groei in cm |
|-----|--------------|-------------|
| 1 | 0 | |
| 2 | 0 | |
| 4 | 0 | |
| 5 | 1 | |
| 6 | 3 | |
| 7 | 7 | |
| 8 | 15 | |
| 9 | | |

15 Schildpad en haas

| | | | | |
|----|---|---|---|---|
| 10 | 2 | 5 | 7 | 3 |
| | | | 5 | |
| 1 | 9 | 6 | | 6 |
| 2 | | | | 1 |
| 3 | | | 4 | 3 |
| 5 | 5 | | | 6 |

rij

kolom

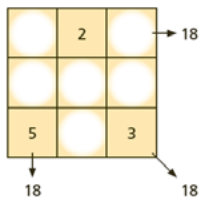
Maak de splitsingen van de getallen in de rondjes.
Streep de getallen weg die al in het bijbehorende rechthoekje staan.

Lukt een vakje niet?
Los dan eerst een ander vakje op.



Tips bij Rekentijger 4B

16 Toervierkanten



Vul eerst de rij of de kolom in waar al twee getallen zijn ingevuld.

17 Dotjes en Twizzels



Streep de figuren door met potlood die het zeker niet zijn.

18 Speelgoedwinkel



Bij het tweede plaatje is er 1 pop meer. Hoeveel betaal je meer voor die pop?

Kun je nu uitreken hoeveel de bal kost?

20 Hoeveel samen?



Tel de getallen in de hoeken dubbel.

21 Keertabellen

| | | | | |
|---------------------------------------|----|----|----|-------------------------------------|
| 6 | 2 | 8 | 96 | → rij 1: $6 \times 2 \times 8 = 96$ |
| | 4 | | 84 | |
| | 9 | | 45 | |
| 90 | 72 | 56 | | |
| ↓ kolom 2: $2 \times 4 \times 9 = 72$ | | | | |


Maak er vleksommen van. Bij het antwoord 84:

$$? \times 4 ? = 84$$



Tips bij Rekentijger 4B

22 Kleurenspel



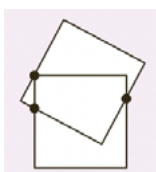
Neem steeds een andere kleur in het midden en leg het patroon.

23 75-spel

| | | | | | | | | |
|--------------|---------------|---------------|---------------|---------------|---------------|---------------|---------------|---------------|
| 5 | 10 | 15 | 20 | 25 | 30 | 35 | 40 | 45 |
| Lara | | | | 25 | 35 | 40 | 20 | 10 |
| Mina | | | | 30 | 15 | 45 | 5 | |

Denk na over de getallen die overblijven.
Kun je daar 75 mee maken?

24 Snijpunten




Knip twee losse vierkanten en probeer het uit.

27 Welke niet?



Bekijk steeds goed welke dingen overal hetzelfde zijn.
Welke dingen verschillen?

28 Doolhoven

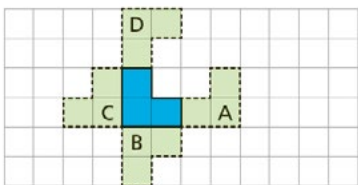


Probeer voor je een lijn tekent te bedenken of je vanaf het volgende punt verder kunt.




Tips bij Rekentijger 4B

29 Kantelen



Gebruik blokjes en ruitjespapier.

30 Rekenrobots



Schrijf op welke mogelijkheden er zijn.