

Extra oefenen analoge klok aflezen

Lesdoel 1: Ik kan de analoge klok op de minuut aflezen.

voorbeeld

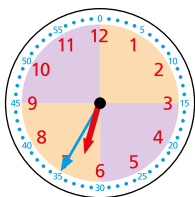


3 minuten over half 4

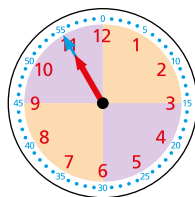
- 1 Kijk naar het vak waar de blauwe grote wijzer staat. **over half**
- 2 Is het voor of over het uur, tel dan het aantal minuten voor het uur of over het uur. Is het voor half of over het half uur, tel dan het aantal minuten voor het half uur of over het half uur. **3 minuten over half**
- 3 Kijk naar de rode kleine wijzer en de uren in het rood. **tussen 3 en 4 uur**
- 4 Lees de tijd af. **3 minuten over half 4**

1

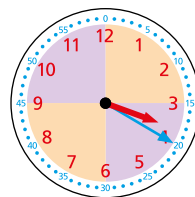
Hoe laat is het?



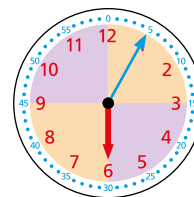
5 minuten
over half 7



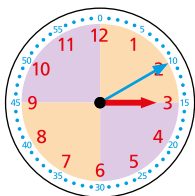
5 minuten
voor 11



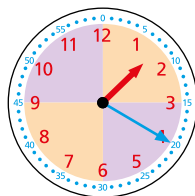
10 minuten
voor half 4



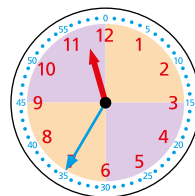
5 minuten
over 6



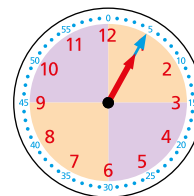
10 minuten
over 3



10 minuten
voor half 2

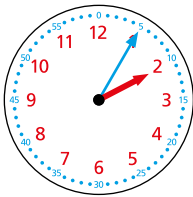


5 minuten
over half 12



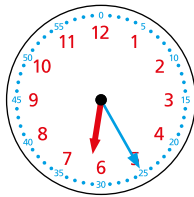
5 minuten
over 1

2 Hoe laat is het? Kleur de goede hokjes en schrijf de tijd op.



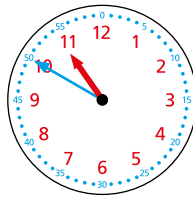
5	voor
10	over

2



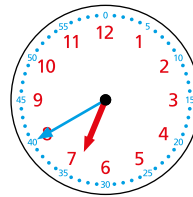
5	voor
10	over

half 7



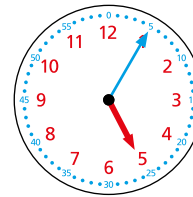
5	voor
10	over

11



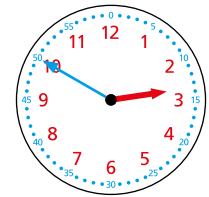
5	voor
10	over

half 7



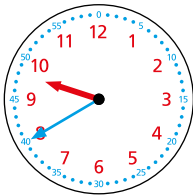
5	voor
10	over

5



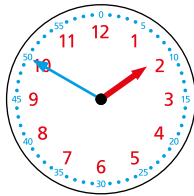
5	voor
10	over

3



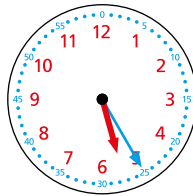
5	voor
10	over

half 10



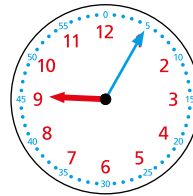
5	voor
10	over

2



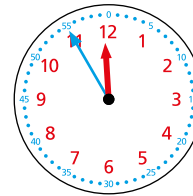
5	voor
10	over

half 6



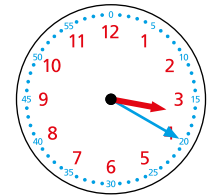
5	voor
10	over

9



5	voor
10	over





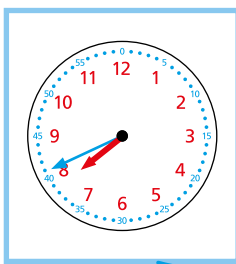
12



5	voor
10	over

half 4

3 Hoe laat is het? Verbind de klok met dezelfde tijd.



13 minuten over 3

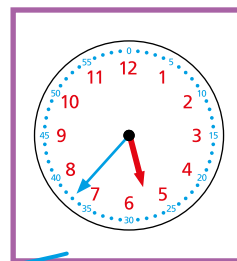
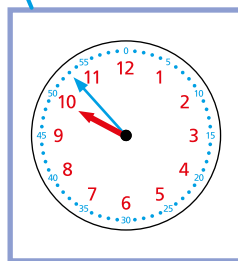
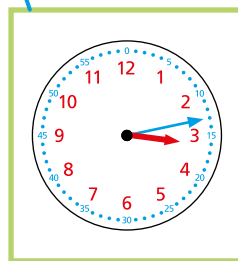
7 minuten voor 10

6 minuten voor half 1

11 minuten over half 8

8 minuten voor 2

7 minuten over half 6



11 minuten over 5

4

Hoe laat is het?



13 minuten
over 5



6 minuten
voor half 9



10 minuten
over half 9



12 minuten
over 3



11 minuten
over half 1



6 minuten
voor 8



13 minuten
voor half 7



7 minuten
over 1



11 minuten
voor 2



9 minuten
voor half 4



6 minuten
over half 6



8 minuten
voor 9




13 minuten
over 12



8 minuten
voor half 1



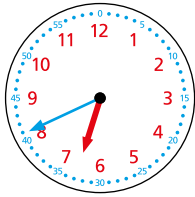
12 minuten
voor 11



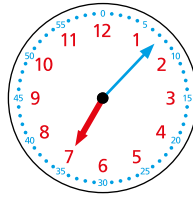
9 minuten
over half 8

5

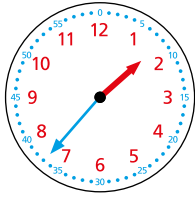
Hoe laat is het? Reken uit. Teken de wijzers en schrijf de tijd op.



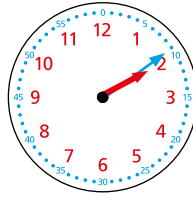
26 minuten later



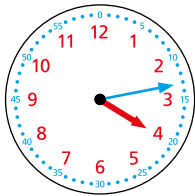
7 minuten over 7



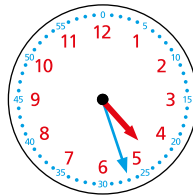
32 minuten later



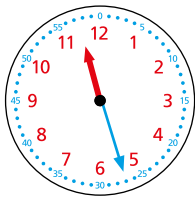
9 minuten over 2




14 minuten later



3 minuten voor half 5



41 minuten later



8 minuten over 12

6

Vul de letters in van vroeg naar laat.

12 minuten voor half 5	w
7 minuten over half 6	l
13 minuten voor half 6	k
2 minuten voor 5	n


1 minuut voor 6	o
6 minuten over half 5	a
8 minuten over 6	k
13 minuten over 5	d

Van vroeg naar laat:

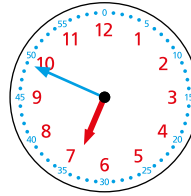
w	a	n	d	k	l	o	k
---	---	---	---	---	---	---	---

check out

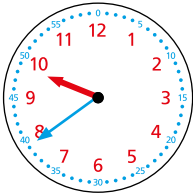
Hoe laat is het?



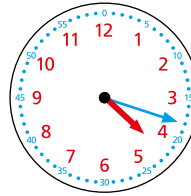
6 minuten
over 2



11 minuten
voor 7



9 minuten
over half 10



12 minuten
voor half 5

