

### Extra oefenen digitale klok aflezen

**Lesdoel 1:** Ik kan de digitale klok op de minuut aflezen.

voorbeeld

15:33

3 minuten over half 4

- 1 Kijk naar de uren en minuten. 15 uur en 33 minuten
- 2 Bedenk wat de getallen betekenen. 15 uur is 3 uur in de middag.  
33 minuten = 3 minuten over een half uur.
- 3 Lees de tijd af. 3 minuten over half 4

1

Hoe laat is het?

20:10

\_\_\_ minuten

\_\_\_\_\_

12:50

\_\_\_ minuten

\_\_\_\_\_

16:35

\_\_\_ minuten

\_\_\_\_\_

18:25

\_\_\_ minuten

\_\_\_\_\_

19:50

\_\_\_ minuten

\_\_\_\_\_

11:55

\_\_\_ minuten

\_\_\_\_\_

19:35

\_\_\_ minuten

\_\_\_\_\_

15:05

\_\_\_ minuten

\_\_\_\_\_

2

Hoe laat is het? Verbind de klokken met de tijden.

19:05

10 minuten over half 4

18:35

14:05

5 minuten over 2

03:40

06:35

10 minuten over 12

02:05

12:10

5 minuten over 7

07:05

15:40

5 minuten voor half 12

00:10

11:25

5 minuten over half 7

23:25

3

Schrijf de tijd in de klok.



8 minuten  
over half 6  
's middags



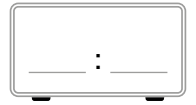
11 minuten  
over 9  
's avonds



7 minuten  
voor half 2  
's middags



12 minuten  
voor half 4  
's middags



11 minuten  
over half 1  
's middags



6 minuten  
voor 8  
's avonds



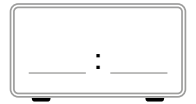
8 minuten  
voor half 10  
's avonds



9 minuten  
over half 9  
's avonds



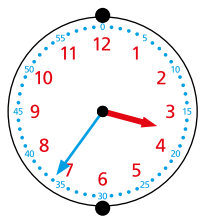
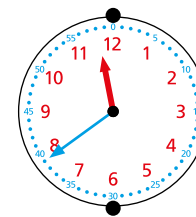
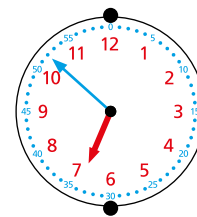
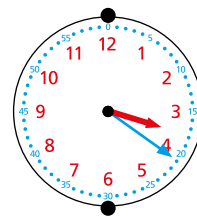
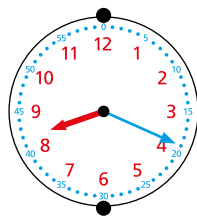
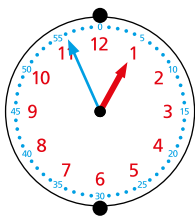
3 minuten  
voor 6  
's middags



4 minuten  
voor half 3  
's middags

4

Verbind de digitale klokken met de analoge klokken en de tijden.



9 minuten  
voor half 4

11 minuten  
voor half 9

6 minuten  
over half 4

4 minuten  
voor 1

8 minuten  
voor 7


9 minuten  
over half 12

# 5

Hoe laat is het? Verbind de tijden.



1 uur en 11 minuten vroeger




3 uur en 48 minuten later



2 uur en 45 minuten vroeger




2 uur en 2 minuten later



3 uur en 22 minuten vroeger


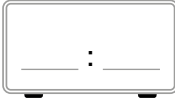







2 uur en 25 minuten later



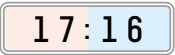
# 6

Hoe laat is het steeds 18 minuten later? Reken uit.  
Schrijf de tijd in de klok en schrijf erachter hoe laat het is.

 11 minuten over 1  $\rightarrow$   \_\_\_\_\_  
 $\downarrow$   
 \_\_\_\_\_  $\leftarrow$   \_\_\_\_\_  
 $\downarrow$   
 \_\_\_\_\_  $\rightarrow$   \_\_\_\_\_  
 $\downarrow$   
 \_\_\_\_\_

check out

Hoe laat is het?

 17:16 \_\_\_\_\_ minuten \_\_\_\_\_

 11:06 \_\_\_\_\_ minuten \_\_\_\_\_

 21:53 \_\_\_\_\_ minuten \_\_\_\_\_

 14:42 \_\_\_\_\_ minuten \_\_\_\_\_