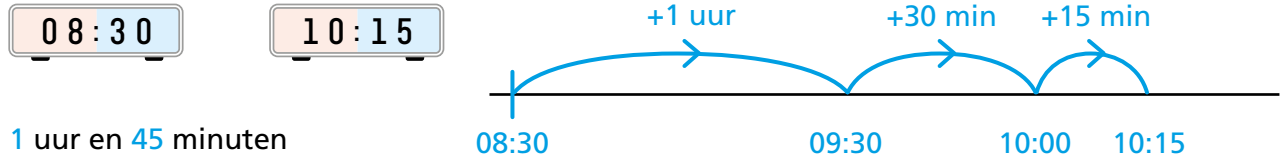


### Extra oefenen tijdsduur digitale klok

**Lesdoel 1:** Ik kan de tijdsduur berekenen in uren en minuten op een digitale klok.

voorbeeld

Hoeveel uur en minuten later?

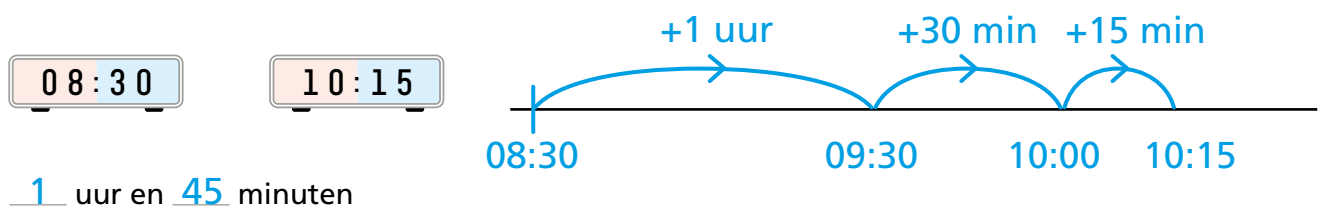


1 uur en 45 minuten

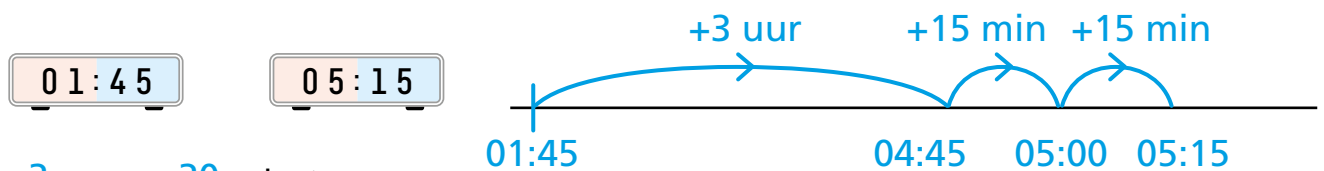
- 1 Zet een lijn en schrijf de begintijd links en de eindtijd rechts op.
- 2 Reken uit hoeveel uur erbij komt. 1 uur
- 3 Reken uit hoeveel minuten erbij komen. 45 minuten
- 4 Tel de sprongen bij elkaar op. 1 uur en 45 minuten

1

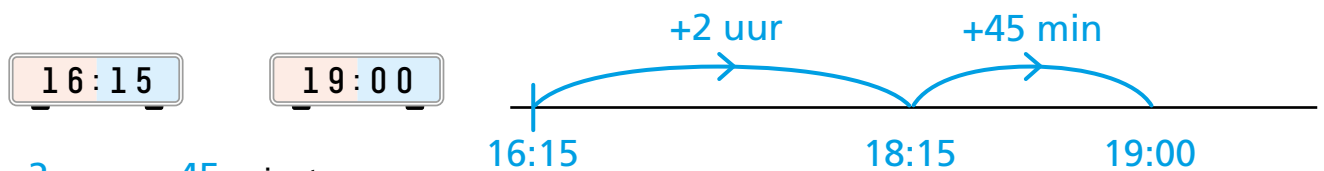
Hoeveel uur en minuten later? Teken de sprongen op de tijdlijn.



1 uur en 45 minuten

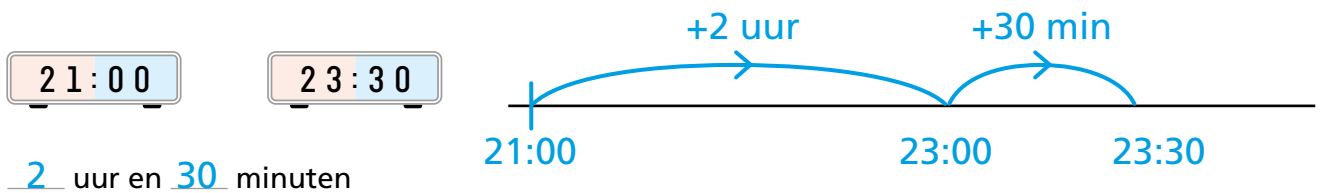
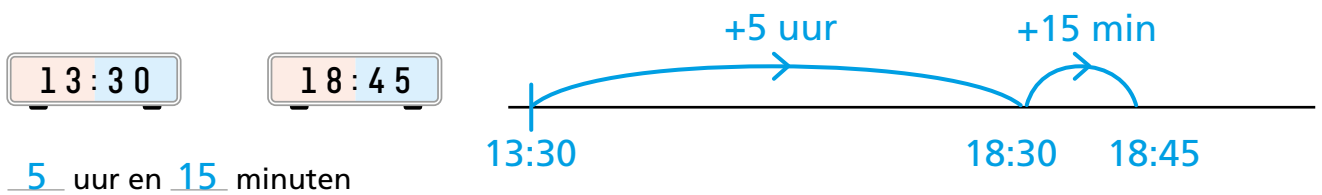
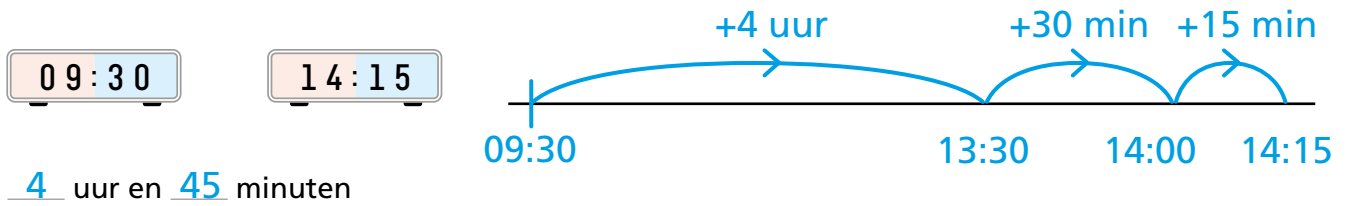


3 uur en 30 minuten

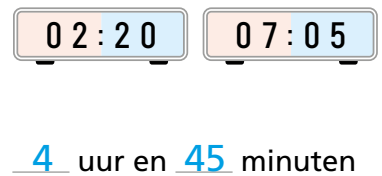
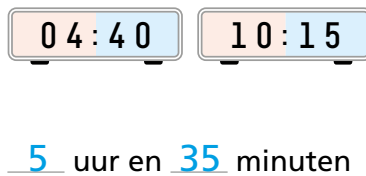
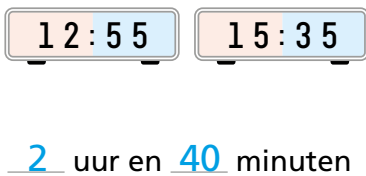


2 uur en 45 minuten

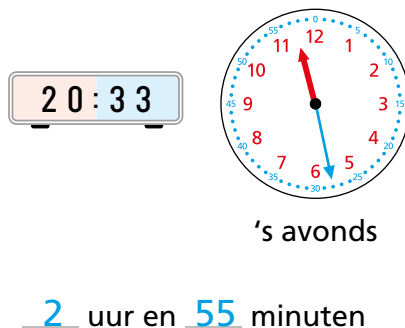
**2** Hoeveel uur en minuten later? Teken de sprongen op de tijdlijn.



**3** Hoeveel uur en minuten later? Reken uit. Teken een tijdlijn in je schrift.



**4** Hoeveel uur en minuten later? Reken uit. Teken een tijdlijn in je schrift.



# 5

Hoe laat is het? Reken uit in je schrift

23:12

3 uur en 54 minuten **later**  
is het 03 : 06

20:47

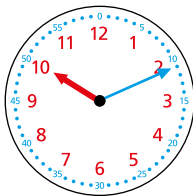
2 uur en 51 minuten **vroeger**  
is het 17 : 56

18:42

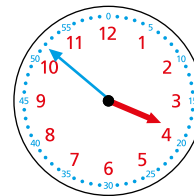
5 uur en 43 minuten **later**  
is het 00 : 25

19:34

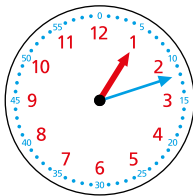
3 uur en 22 minuten **vroeger**  
is het 16 : 12



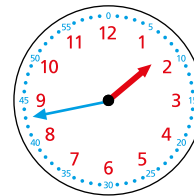
4 uur en 24 minuten **later** is  
het 5 over half 3



5 uur en 23 minuten **vroeger**  
is het 1 voor half 11



3 uur en 49 minuten **later** is  
het 1 over 5



4 uur en 47 minuten **vroeger**  
is het 4 voor 9

# 6

Kijk op de kalender en beantwoord de vragen.

2026												
maart						april						
ma		2	9	16	23	30	ma		6	13	20	27
di		3	10	17	24	31	di		7	14	21	28
wo		4	11	18	25		wo	1	8	15	22	29
do		5	12	19	26		do	2	9	16	23	30
vr		6	13	20	27		vr	3	10	17	24	
za		7	14	21	28		za	4	11	18	25	
zo	1	8	15	22	29		zo	5	12	19	26	

Het is 4 maart.

Welke datum was het precies 1 week geleden?

\_\_\_\_\_ **25 februari**

(2026 is geen schrikkeljaar)

Het is 18 april. Jans is 23 mei jarig.

Over hoeveel weken is Jans jarig?

\_\_\_\_\_ **5** weken

Het is 11 maart. Over 3 maanden is de sportdag.

De sportdag is op 11 juli.

Dit klopt.

Dit klopt niet. Het goede antwoord is **11 juni**

Het is 24 april.

Op 16 mei gaat Charlie logeren bij zijn neef. Dat is over 3 weken en 1 dag.

Dit klopt.

Dit klopt niet. Het goede antwoord is \_\_\_\_\_

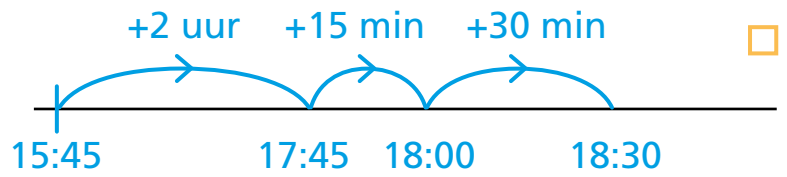
check out

Hoeveel uur en minuten later?

15:45

18:30

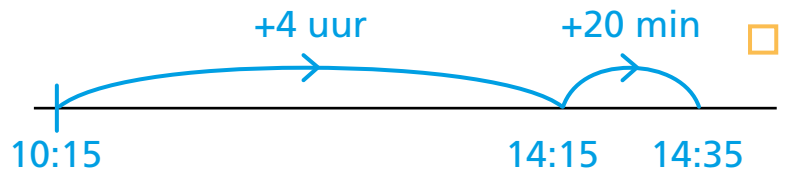
2 uur en 45 minuten



10:15

14:35

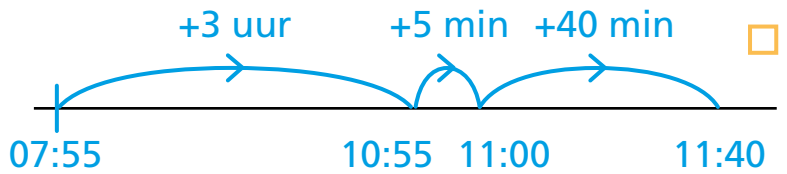
4 uur en 20 minuten



07:55

11:40

3 uur en 45 minuten



19:42

23:21

3 uur en 39 minuten

