

Extra oefenen uitrekenen hoeveel geld je terugkrijgt

Lesdoel 1: Ik kan uitrekenen hoeveel geld je terugkrijgt.

voorbeeld

Het kost € 54,95.



Je geeft € 70,00.



Je krijgt terug: € 15,05.



€	5	4,	9	5	+	€	0,	0	5	=	€	5	5,	0	0	
€	5	5,	0	0	+	€	1	5,	0	0	=	€	7	0,	0	0
€	0,	0	5	+	€	1	5,	0	0	=	€	1	5,	0	5	

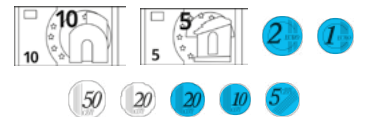
- 1 Vul aan met centen. $€ 54,95 + € 0,05 = € 55,00$
- 2 Vul aan met euro's. $€ 55,00 + € 15,00 = € 70,00$
- 3 Vul het bedrag in wat je terugkrijgt. $€ 0,05 + € 15,00 = € 15,05$

1

Wat krijg je terug? Gebruik zo min mogelijk munten en biljetten.
Kleur de munten en biljetten.



Je geeft 



Je geeft 




Je geeft 








Je geeft 



2 Hoeveel krijg je terug? Reken uit in je schrift.

	€ 53,50	Je geeft		€ <u>6,50</u>
	€ 26,15	Je geeft		€ <u>3,85</u>
	€ 44,45	Je geeft		€ <u>5,55</u>
	€ 54,35	Je geeft		€ <u>0,65</u>

3 Je betaalt steeds met € 50,00. Klopt het bedrag dat je terugkrijgt? Reken uit in je schrift.

 € 16,80	Je krijgt terug: € 32,20.	ja / <u>nee</u> Je moet terugkrijgen: € <u>33,20</u>
 € 43,45	Je krijgt terug: € 6,55.	<u>ja</u> / nee Je moet terugkrijgen: € _____
 € 24,55	Je krijgt terug: € 25,45.	<u>ja</u> / nee Je moet terugkrijgen: € _____
 € 36,95	Je krijgt terug: € 13,15.	ja / <u>nee</u> Je moet terugkrijgen: € <u>13,05</u>
 € 47,85	Je krijgt terug: € 2,25.	ja / <u>nee</u> Je moet terugkrijgen: € <u>2,15</u>

4 Je betaalt steeds met € 100,00. Hoeveel krijg je terug? Reken uit in je schrift.

<div style="border: 1px solid black; padding: 5px; background-color: #f0f0f0;"> <div style="background-color: #00a0e3; color: white; padding: 2px;">Totaal € 92,15</div> <div style="background-color: #f79646; color: white; padding: 2px;">Scan</div> </div>	Je krijgt terug: € <u>7,85</u>	<div style="border: 1px solid black; padding: 5px; background-color: #f0f0f0;"> <div style="background-color: #00a0e3; color: white; padding: 2px;">Totaal € 84,40</div> <div style="background-color: #f79646; color: white; padding: 2px;">Scan</div> </div>	Je krijgt terug: € <u>15,60</u>
<div style="border: 1px solid black; padding: 5px; background-color: #f0f0f0;"> <div style="background-color: #00a0e3; color: white; padding: 2px;">Totaal € 94,50</div> <div style="background-color: #f79646; color: white; padding: 2px;">Scan</div> </div>	Je krijgt terug: € <u>5,50</u>	<div style="border: 1px solid black; padding: 5px; background-color: #f0f0f0;"> <div style="background-color: #00a0e3; color: white; padding: 2px;">Totaal € 87,75</div> <div style="background-color: #f79646; color: white; padding: 2px;">Scan</div> </div>	Je krijgt terug: € <u>12,25</u>
<div style="border: 1px solid black; padding: 5px; background-color: #f0f0f0;"> <div style="background-color: #00a0e3; color: white; padding: 2px;">Totaal € 98,35</div> <div style="background-color: #f79646; color: white; padding: 2px;">Scan</div> </div>	Je krijgt terug: € <u>1,65</u>	<div style="border: 1px solid black; padding: 5px; background-color: #f0f0f0;"> <div style="background-color: #00a0e3; color: white; padding: 2px;">Totaal € 95,95</div> <div style="background-color: #f79646; color: white; padding: 2px;">Scan</div> </div>	Je krijgt terug: € <u>4,05</u>

5

Hoeveel heb je gegeven? Reken uit in je schrift.

Aantal artikelen
Totaal € 66,50

Je krijgt terug: € 3,50.
Je gaf € 70,00

Aantal artikelen
Totaal € 17,45

Je krijgt terug: € 2,55.
Je gaf € 20,00

Aantal artikelen
Totaal € 55,95

Je krijgt terug: € 24,05.
Je gaf € 80,00

Aantal artikelen
Totaal € 23,65

Je krijgt terug: € 26,35.
Je gaf € 50,00

Aantal artikelen
Totaal € 32,85

Je krijgt terug: € 7,15.
Je gaf € 40,00

Aantal artikelen
Totaal € 41,90

Je krijgt terug: € 8,10.
Je gaf € 50,00

6

Wat kun je kopen voor € 60,00? Hoeveel krijg je terug?
Reken uit in je schrift. Ter beoordeling van de leerkracht.



€ 17,50



€ 35,90



€ 42,75



€ 20,50



€ 15,50



€ 9,90



€ 2,50



€ 4,95



€ 3,00

plant 1 + pot 1 + zak 1
prijs: € 17,50 + € 20,50 + € 2,50 = € 40,50
Je krijgt terug: € 19,50

plant ____ + pot ____ + zak ____
prijs: € _____
Je krijgt terug: € _____

plant ____ + pot ____ + zak ____
prijs: € _____
Je krijgt terug: € _____

plant ____ + pot ____ + zak ____
prijs: € _____
Je krijgt terug: € _____

check out

Hoeveel krijg je terug? Teken en reken uit. Er zijn meer antwoorden mogelijk.



€ 36,75

Je geeft



€2 €1 20 5



€ 3,25



€ 24,15

Je geeft



€5 50 20 10 5



€ 5,85