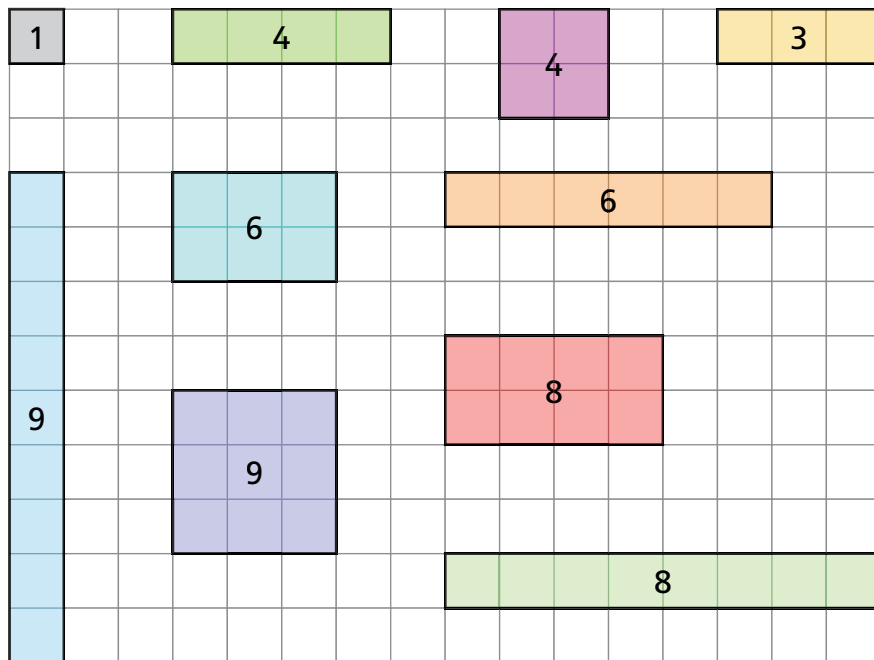


vierkanten (1)



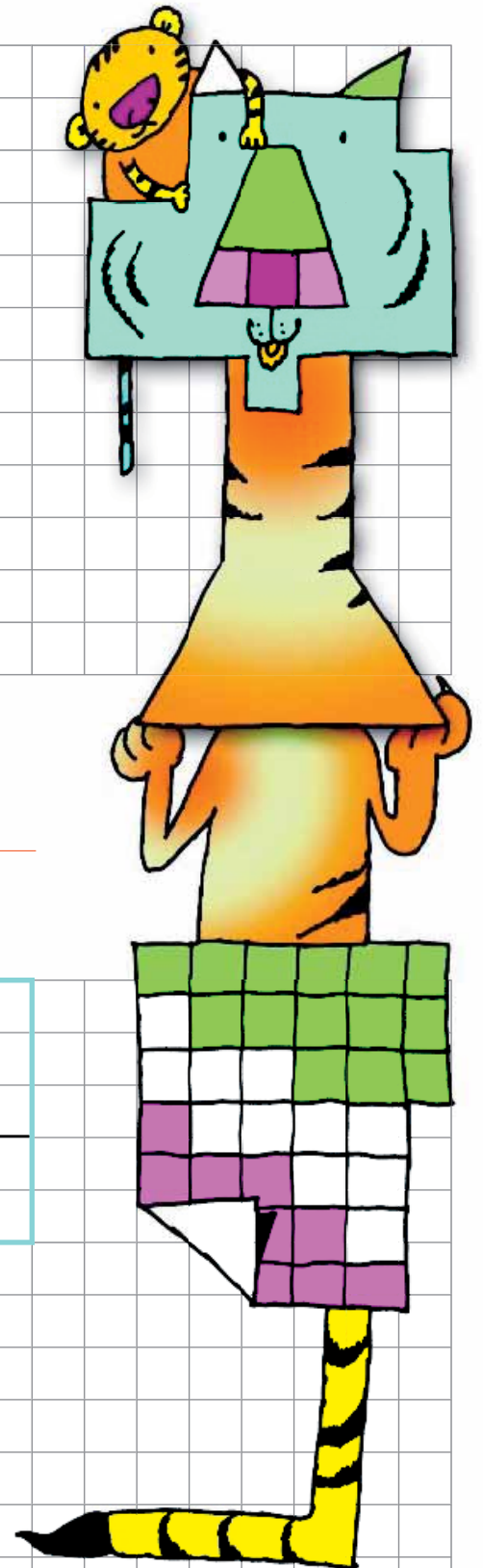
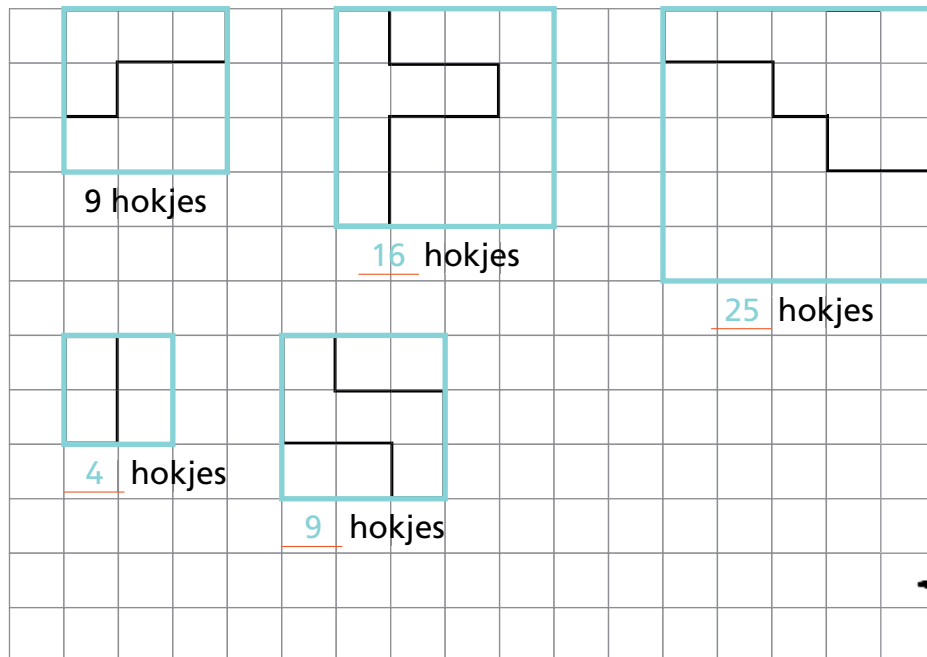
voorbeelden



teken de getallen 1, 2, 3, 4, 5, ... 20.
gebruik ruitjespapier.

welke getallen kun je als vierkant tekenen? 1, 4, 9 en 16

teken het kleinste vierkant.
hoeveel hokjes bij elkaar?



vierkanten (2)



teken op dun karton 25 vierkante tegels.
knip die tegels uit.

pak 12 tegels. leg daarmee het grootste vierkant.

hoeveel tegels? 9 hoeveel over? 3

pak 18 tegels. leg daarmee het grootste vierkant.


hoeveel tegels? 16 hoeveel over? 2

pak 20 tegels. leg daarmee twee vierkanten. gebruik alle tegels.

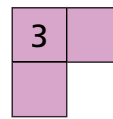
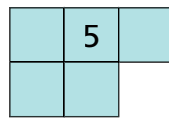
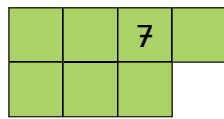
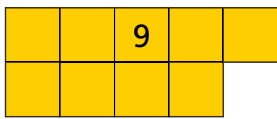
welke vierkanten? 4 en 16

pak 25 tegels. leg daarmee twee vierkanten. gebruik alle tegels.

welke vierkanten? 9 en 16

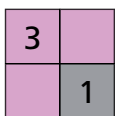


maak vierkanten.
gebruik deze vloertjes.

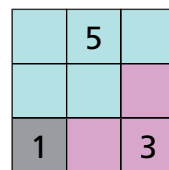


teken en kleur de vloertjes in de vierkanten

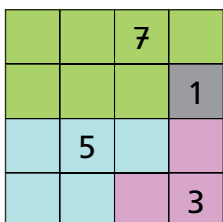
maak met 2 vloertjes vierkant 4.



maak met 3 vloertjes vierkant 9.



maak met 4 vloertjes vierkant 16.



maak met 5 vloertjes vierkant 25.

